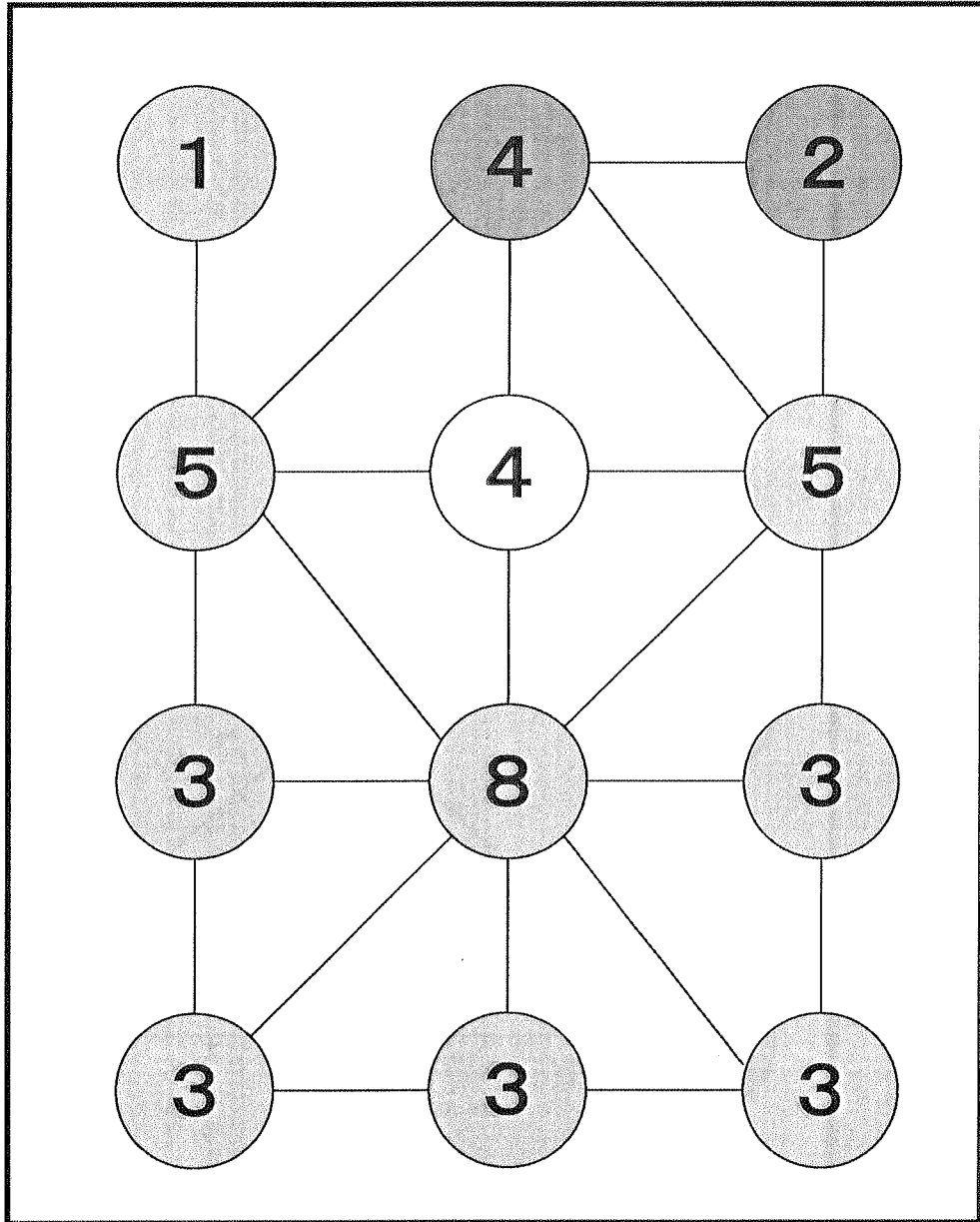


【解答】ナンバーリンク その21

【答え】



(考え方)





- ①上から2段目左右の5、上から3段目中央の8、下段左右の3は基本の「定石」
- ②上段右の2と上段中央4が決まって完成。

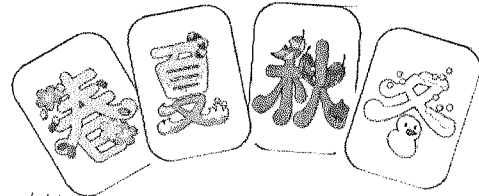
【解答】 チャレペー その21

「4枚のカード ③」

4枚のカードがあります。

片方の面には はる 春 なつ 夏 あき 秋 ふゆ 冬、もう片方の面には

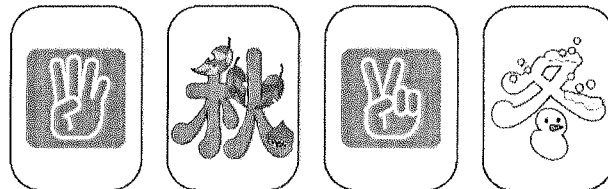
    が1つずつかいてあります。



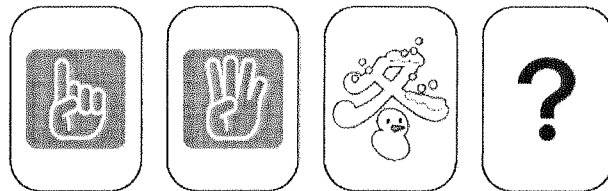
カードをよくまぜてから、2回ならべました。

?にかいてある絵はどれですか。答えに○をつけましょう。

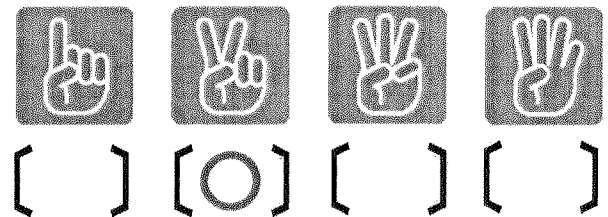
かいめ
1回目



かいめ
2回目



こた
答え



【解答】^{めいろ}迷路『^{しろくろ}白黒タイル』その1

がつ
月

にち
日

なまえ
名前

Sのタイルから、Gのタイルまで^{くろ}黒、^{しろ}白の^{じゅん}順にタイルを^ふ踏
みながら^{いどう}移動しましょう。ただし、^{なな}斜め^{いどう}移動は^{でき}出来ません。

^{ただ}正しい^{じゅんろ}順路に、^{せん}線を書きいれなさい。

