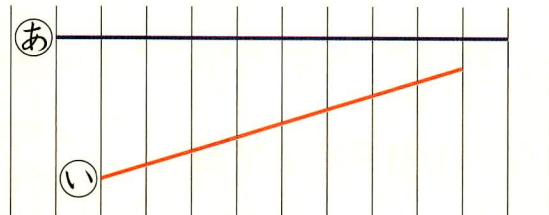



やってみよう



2本の ひもの 長さを くらべましょう。

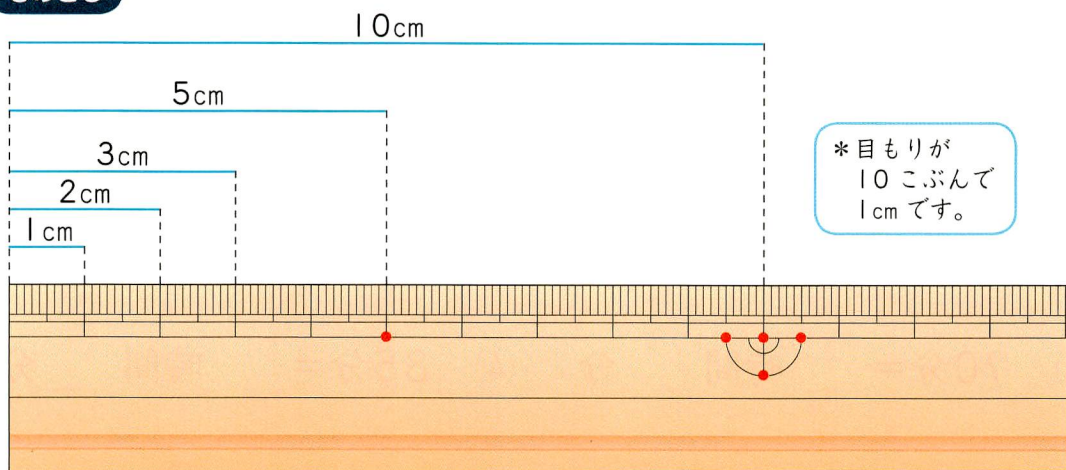


 長さは ものさして はかり、
1センチメートルが
いくつぶん あるかで
あらわします。

1 cm

1センチメートル
1センチ

ものさし



ものさして はかりましょう。

→ ①の ひもの 長さは _____ cm です。

②の ひもの 長さは _____ cm です。

長いのは _____ の ひもです。

①と ②の 長さの ちがいは _____ cm です。



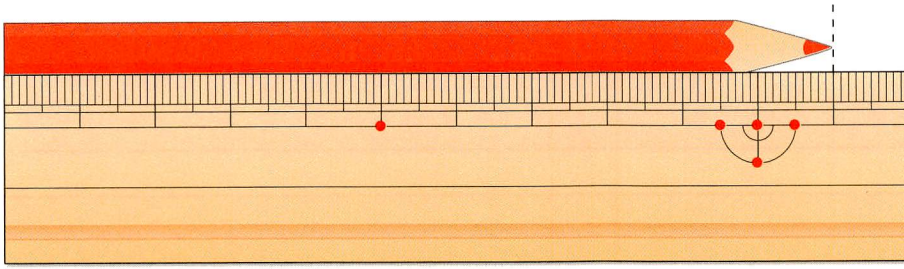
もんだいを といて みよう



1 cm を 書きましょう。

cm	cm			
----	----	--	--	--

2 えんぴつの 長さは 何cm でしょう。



答え cm


3 ものさしを つかって、テープの 長さを はかりましょう。



ものさしを ぴったりと あてて はかるんだよ。

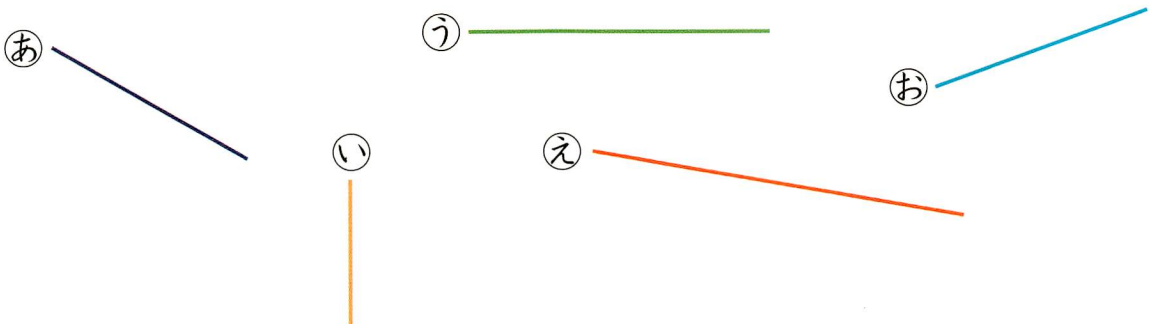
(1) 

答え cm

(2) 

答え cm

4 同じ 長さの 線は どれと どれでしょう。長さを はかって しらべましょう。



答え と

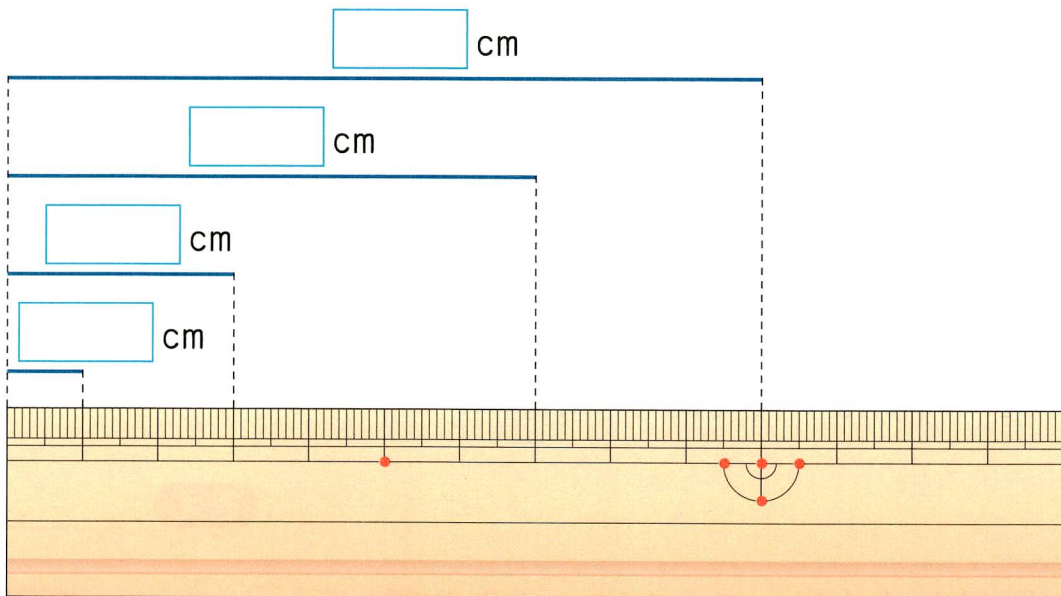
22 長さを はかろう(1)

べんきょうした 日 月 日

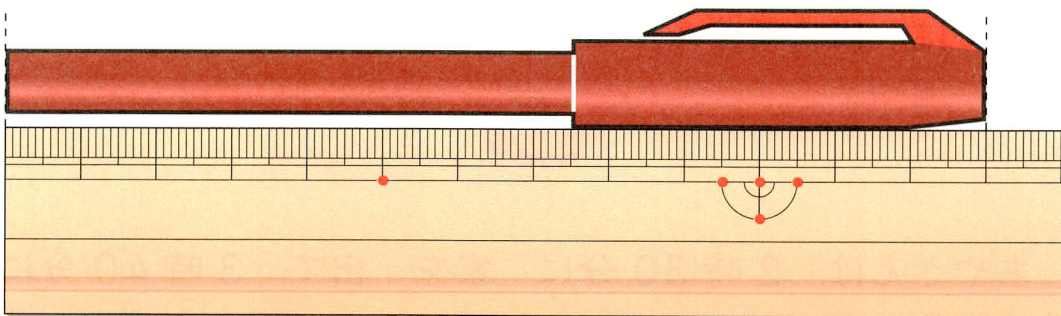
□ 1 cm を 書きましょう。

cm	cm						
----	----	--	--	--	--	--	--

□ 2 に 数を 書きましょう。



□ 3 ペンの 長さは 何cm でしょう。



答え cm

4 物のさしを つかって、テープの 長さを はかりましょう。

□(1)



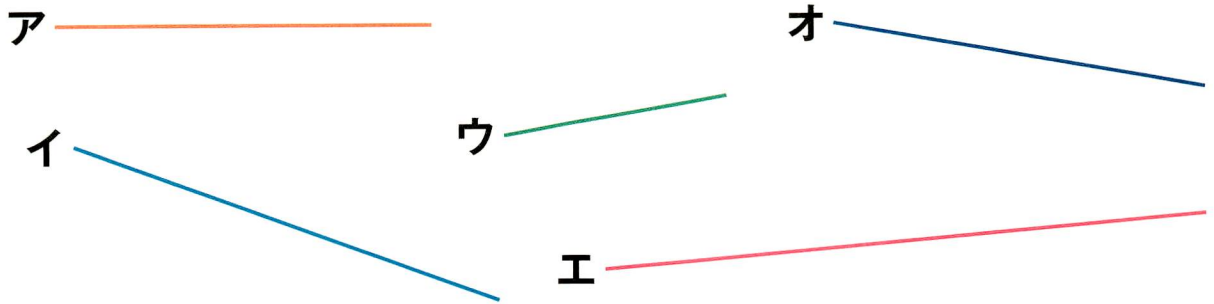
答え _____ cm

□(2)



答え _____ cm

5 ア～オの 線が あります。



□(1) 物のさしを つかって、線の 長さを はかりましょう。

答え ア _____ cm, イ _____ cm, ウ _____ cm, エ _____ cm, オ _____ cm

□(2) いちばん 長い 線は どれでしょう。

答え _____

□(3) イと エの 長さの ちがいは 何cmでしょう。

答え _____ cm